


PRACOVNÝ LIST

1. ÚLOHA

Predstav si, že máš pokladničku plnú mincí.



Porovnaj a doplň podľa vzoru.

počet 1-centoviek							počet 2-centoviek
3	>	2					
1-centoviek je o 1 viac ako 2-centoviek							

počet 20-centoviek							počet 5-centoviek
20-centoviek je o ako 5-centoviek							

počet 5-centoviek							počet 2-centoviek
5-centoviek je o ako 2-centoviek							

počet 1-euroviek							počet 2-euroviek
1-euroviek je o ako 2-euroviek							

počet 10-centoviek							počet 50-centoviek
10-centoviek je o ako 50-centoviek							

počet 2-euroviek							počet 5-centoviek
2-euroviek je o ako 5-centoviek							

2. ÚLOHA

Adam nasporil tieto mince: 

Eva nasporila tieto mince: 

Koľko centov nasporil Adam?


Koľko centov nasporila Eva?

Porovnaj a doplň ako v 1. úlohe.

Adamova nasporená suma		Evina nasporená suma
<input type="text"/>	<input type="text"/>	<input type="text"/>
Adam nasporil o <input type="text"/> centov	<input type="text"/>	ako Eva.

Odpovedz na otázky.


Porovnaj.

 Koľkokrát viac 10-centoviek nasporil Adam ako nasporila Eva?

počet Adamových 10-centoviek		počet Eviných 10-centoviek
<input type="text"/>	<input type="text"/>	<input type="text"/>

 Koľkokrát menej 5-centoviek nasporila Eva ako nasporil Adam?

počet Eviných 5-centoviek		počet Adamových 5-centoviek
<input type="text"/>	<input type="text"/>	<input type="text"/>

 Koľkokrát menej 50-centoviek nasporil Adam ako nasporila Eva?

počet Adamových 50-centoviek		počet Eviných 50-centoviek
<input type="text"/>	<input type="text"/>	<input type="text"/>